



CURSO: ELECTRÓNICA DIGITAL

UNIDAD 1: COMPUERTAS LÓGICAS - TEORÍA

PROFESOR: JORGE ANTONIO POLANÍA

Las compuertas lógicas son bloques que realizan las operaciones básicas de la aritmética binaria del **álgebra de Boole**, esto es, realizan las operaciones AND, OR, NOT, NAND, NOR, etc. Estas compuertas internamente están construidas en forma de circuitos integrados básicamente con transistores y resistencias. Son pequeños sistemas que al aplicarles una señal de entrada binaria se produce en la salida una respuesta también binaria que va a depender del tipo de compuerta.

En esta unidad usted aprenderá a conocer los números binarios, los símbolos de cada una de las compuertas, su tabla de verdad y sus ecuaciones lógicas básicas del Algebra de Boole y a resolver problemas lógicos aplicando esta tecnología junto a los Mapas de Karnaugh. Correspondiendo a la metodología de Ceduvirt, se estudiará su teoría, se harán simulaciones con laboratorio virtual y las pruebas de laboratorio en protoboard para afianzar los conocimientos y competencias adquiridas.

1. NÚMEROS BINARIOS

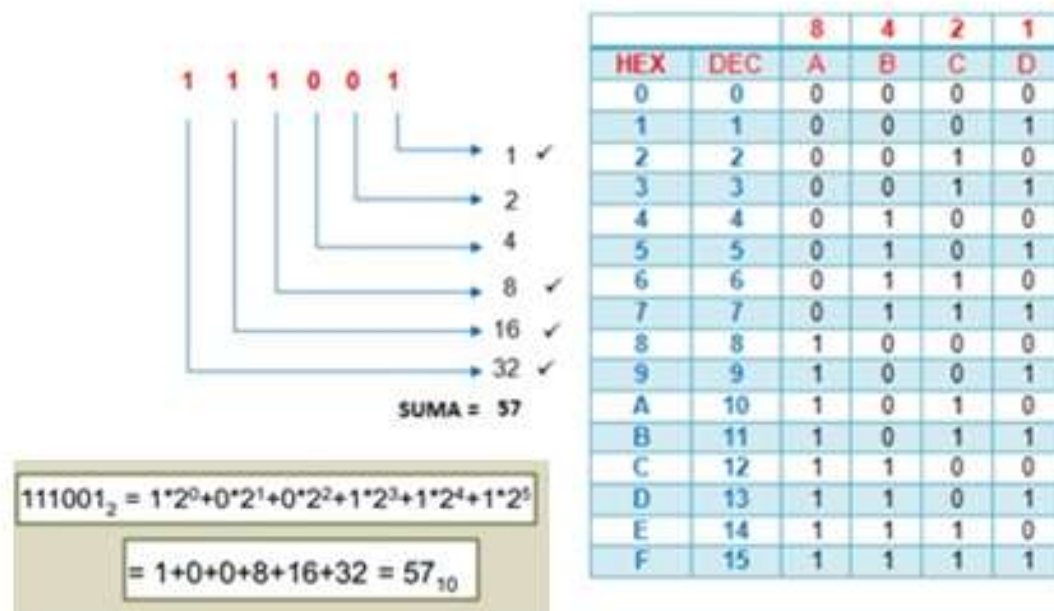
Los números binarios son la base para el estudio de la Electrónica Digital. Así como los números decimales tienen como base el número 10, pues,

$$345 = 5 \cdot 1 + 4 \cdot 10 + 3 \cdot 100 = 5 \cdot 10^0 + 4 \cdot 10^1 + 3 \cdot 10^2$$

0, 1, 2, 3,, 10

Los números binarios tienen como base el número 2 y sólo tienen los números 0 y 1. Por eso se llaman binarios.

El número binario 111001 tiene su representación decimal de la siguiente forma:



EJEMPLO

En el cuadro anterior, está la representación de los números binarios en formato Hexadecimal que son del 0 al 9 y A=10, B=11, C=12, D=13, E=14 y F=15.

El número decimal 57, en formato binario es igual a:

$$57 = 32 + 16 + 8 + 1 = 111001$$

Note que la ponderación binaria de derecha a izquierda es: 1, 2, 4, 8, 16, 32, 64, (potencias de 2)

En formato hexadecimal:

$$57 = 0101(5)0111(7) = 01010111$$

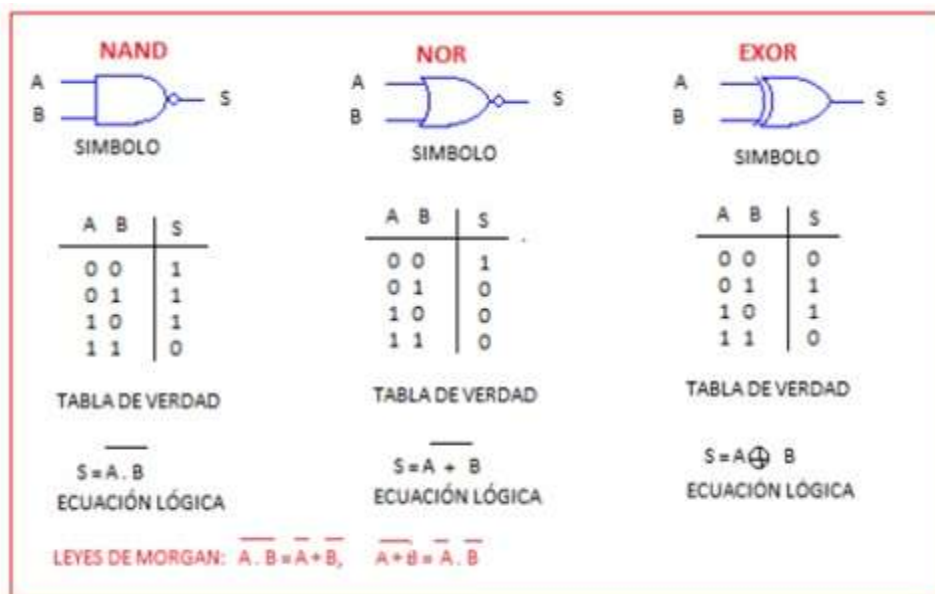
2. PUERTAS LÓGICAS BÁSICAS

Las puertas o compuertas lógicas básicas son: La puerta AND, la puerta OR y la puerta NOT. A continuación se presenta su símbolo, la tabla de verdad que nos dice la salida dependiendo de la combinación de las entradas y su ecuación lógica. Observe que la puerta AND (Puerta Y) solo tiene una salida =1 o nivel alto si ambas entradas son 1. La puerta OR (puerta O) tiene una salida =1 si

cualquiera o ambas de las entradas es 1. La puerta NOT o Inversor niega la entrada, esto es, si la entrada es 0 la salida es 1 y si es 1 la salida es 0.



Si a las compuertas anteriores se les niega la salida tenemos la configuración de otras compuertas como la NAND, la NOR. En el cuadro aparece su tabla de verdad con su ecuación lógica. La puerta EXOR es una puerta que se denomina OR EXCLUSIVO y su salida es 1 siempre que las entradas sean diferentes, o sea, si sus entradas son, 01 o 10 la salida es 1. Se puede decir que es un comparador. Si las entradas son diferentes la salida es 1 y si son iguales la salida es 0.



3. CIRCUITOS INTEGRADOS

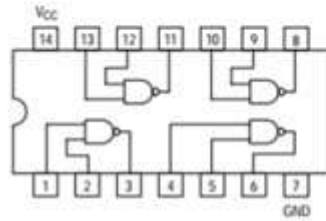
Las compuertas son fabricadas en circuitos integrados con base en transistores bipolares que se conoce con tecnología TTL (Transistor Transistor Logic), en donde en su interior pueden estar varias compuertas. Por ejemplo, el CI (circuito integrado) 7408 tiene en su interior 4 compuertas AND de 2 entradas, el 7411 tiene 3 puertas AND de 3 entradas, el 7421 tiene 2 puertas AND de 4 entradas, el 7404 tiene 6 puertas NOT obviamente de 1 entrada, y así como se muestra en la siguiente tabla.

PUERTA	DESCRIPCIÓN	TTL
AND	4x2 ENTRADAS	7408
	3x3 ENTRADAS	7411
	2x4 ENTRADAS	7421
OR	4x2 ENTRADAS	7432
NAND	4x2 ENTRADAS	7400
	3x3 ENTRADAS	7410
	2x4 ENTRADAS	7420
NOT	6x1 ENTRADA	7404
NOR	4x2 ENTRADAS	7402
	3x3 ENTRADAS	7427
	2x4 ENTRADAS	7425
EX OR	4x2 ENTRADAS	7486

En el siguiente cuadro se presenta la distribución de las compuertas NAND en un circuito integrado. Observe que tiene 14 patas o pines, en donde la tierra (GND) es el pin 7 y la fuente (VCC) debe conectarse en el pin 14. La primera compuerta tiene como entradas los pines 1 y 2 y como salida el pin 3. Se puede apreciar la conexión de las demás compuertas en el integrado.

7400

Quad 2-Input NAND Gate



LOW
POWER
SCHOTTKY

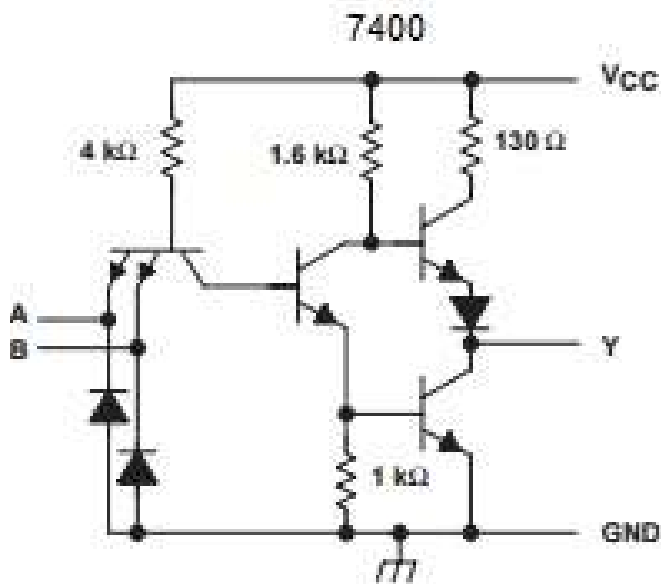


GUARANTEED OPERATING RANGES

Symbol	Parameter	Min	Typ	Max	Unit
V_{CC}	Supply Voltage	4.75	5.0	5.25	V
T_A	Operating Ambient Temperature Range	0	25	70	$^{\circ}\text{C}$
I_{OH}	Output Current - High			-0.4	mA
I_{OL}	Output Current - Low			8.0	mA

<http://www.alldatasheet.com/datasheet-pdf/pdf/12608/ONSEMI/7400.html>

ESQUEMA ELÉCTRICO DE LA COMPUERTA 7400



CARACTERÍSTICAS ELÉCTRICAS

Bien importante es conocer las características eléctricas de los circuitos integrados. Me refiero a sus niveles de voltaje y corrientes. En el cuadro se observa,

- El nivel alto de voltaje de entrada (V_{IH}) es mínimo de 2V
- Nivel bajo de voltaje de entrada (V_{IL}) es máximo 0.8V
- El nivel alto de voltaje de salida (V_{OH}) es mínimo de 2.7V
- Nivel bajo de voltaje de salida (V_{OL}) es máximo 0.4V

Symbol	Parameter	Limits			Unit	Test Conditions
		Min	Typ	Max		
V_{IH}	Input HIGH Voltage	2.0			V	Guaranteed Input HIGH Voltage for All Inputs
V_{IL}	Input LOW Voltage			0.8	V	Guaranteed Input LOW Voltage for All Inputs
V_{IK}	Input Clamp Diode Voltage		-0.65	-1.5	V	$V_{CC} = \text{MIN}$, $I_{IK} = -18 \text{ mA}$
V_{OH}	Output HIGH Voltage	2.7	3.5		V	$V_{CC} = \text{MIN}$, $I_{OH} = \text{MAX}$, $V_{IN} = V_{IH}$ or V_{IL} per Truth Table
V_{OL}	Output LOW Voltage		0.25	0.4	V	$V_{CC} = V_{CC} \text{ MIN}$, $V_{IN} = V_{IL}$ or V_{IH} per Truth Table
			0.35	0.5	V	
I_{IH}	Input HIGH Current			20	μA	$V_{CC} = \text{MAX}$, $V_{IN} = 2.7 \text{ V}$
				0.1	mA	$V_{CC} = \text{MAX}$, $V_{IN} = 7.0 \text{ V}$
I_{IL}	Input LOW Current			-0.4	mA	$V_{CC} = \text{MAX}$, $V_{IN} = 0.4 \text{ V}$
I_{OS}	Short Circuit Current (Note 1)	-20		-100	mA	$V_{CC} = \text{MAX}$
I_{CC}	Power Supply Current Total, Output HIGH			1.6	mA	$V_{CC} = \text{MAX}$
	Total, Output LOW			4.4		

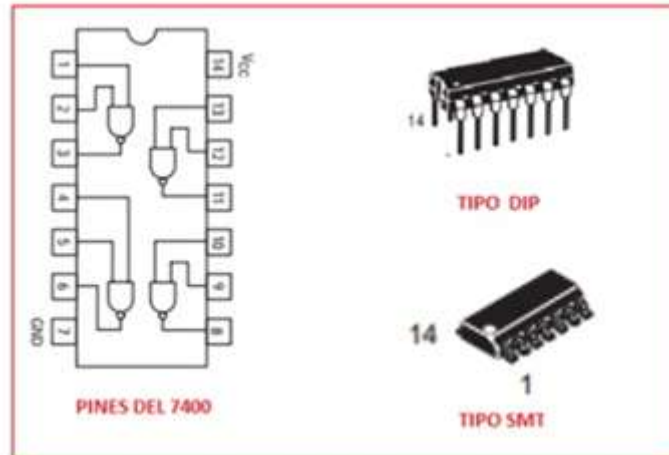
Note 1: Not more than one output should be shorted at a time, nor for more than 1 second.

AC CHARACTERISTICS ($T_A = 25^\circ\text{C}$)

Symbol	Parameter	Limits			Unit	Test Conditions
		Min	Typ	Max		
t_{PLH}	Turn-Off Delay, Input to Output		9.0	15	ns	$V_{CC} = 5.0 \text{ V}$ $C_L = 15 \text{ pF}$
t_{PHL}	Turn-On Delay, Input to Output		10	15	ns	

TIPOS DE CIRCUITOS INTEGRADOS

Las puertas lógicas de tecnología bipolar TTL (Transistor Transistor Logic) o de tecnología MOSFET (Metal Oxido Semiconductor FET) vienen encapsuladas en circuitos integrados tipo DIP (paquete de doble línea) o tipo montaje superficial (SMT).



FAMILIAS DE CIRCUITOS INTEGRADOS

A continuación se presentan las diferentes familias de circuitos integrados que se fabrican según el tipo de transistores utilizados ya sean BJT (bipolares) o del tipo MOS. Las puertas NAND pueden venir según sea su aplicación como: 7400, 74L00, 74S00, 74F00, etc

Se identifican con las letras interiores de la referencia. Ejemplo, 7400 tipo estándar, 74LS00 Schottky de baja potencia.

L: TTL de baja potencia

LS: TTL Schottky de baja potencia

S: TTL Schottky

H: TTL de alta velocidad

AS: TTL Schottky avanzada

F: TTL Schottky avanzada de Fairchild

ALS: TTL Schottky avanzada de baja potencia

HC: CMOS de alta velocidad

HCT: CMOS de alta velocidad con entradas TTL

ACT: CMOS avanzada FACT con entrada TTL

AC: CMOS avanzada tecnología FACT

FCT: CMOS Tecnología FACT avanzada compatible TTL

NIVELES LÓGICOS DE CIRCUITOS INTEGRADOS

Los niveles lógicos de voltaje (nivel del cero y del 1), varían de acuerdo a la familia como se indica a continuación.

TTL		
FAMILIA	ENTRADA	SALIDA
TODAS	$V_{IH} = 2.0$ a $5.0V$ $V_{IL} = 0.0$ a $0.8V$	$V_{OH} = 2.4$ a $5.0V$ $V_{OL} = 0.0$ a $0.4V$
ESTÁNDAR	$I_{IH} = 40\mu A$ $I_{IL} = 1.6mA$	$I_{OH} = 400\mu A$ $I_{OL} = 16mA$
BAJA POTENCIA (LS)	$I_{IH} = 20\mu A$ $I_{IL} = 400\mu A$	$I_{OH} = 400\mu A$ $I_{OL} = 8mA$
AVANZADO BAJA POTENCIA (ALS)	$I_{IH} = 20\mu A$ $I_{IL} = 100\mu A$	$I_{OH} = 400\mu A$ $I_{OL} = 8mA$
AVANZADO FAST (AH)	$I_{IH} = 20\mu A$ $I_{IL} = 0.6mA$	$I_{OH} = 1mA$ $I_{OL} = 20mA$
CMOS		
ALTA VELOCIDAD (HC)	$I_{IH} = 1\mu A$ $I_{IL} = 1\mu A$	$I_{OH} = 4mA$ $I_{OL} = 4mA$
AVANZADA FACT (AC/ACT)	$I_{IH} = 1\mu A$ $I_{IL} = 1\mu A$	$I_{OH} = 24mA$ $I_{OL} = 24mA$

RESISTENCIA PULL UP DE ENTRADA

La resistencia que se debe conectar a la entrada de un circuito integrado depende del tipo de familia por sus niveles de voltaje como se indica en la siguiente tabla.

SERIE TTL	MAX I_{IH}	MAX I_{IL}	RESISTENCIA
54/74	40 μA	-1.6mA	4K Ω
54ALS/74ALS	20 μA	-0.1mA	40K Ω
54AS/74AS	20 μA	-0.5mA	8K Ω
54H/74H	50 μA	-2.0mA	2.8K Ω
54LS/74LS	20 μA	-0.4mA	18K Ω
54S/74S	50 μA	-2.0mA	2.8K Ω

EJEMPLO

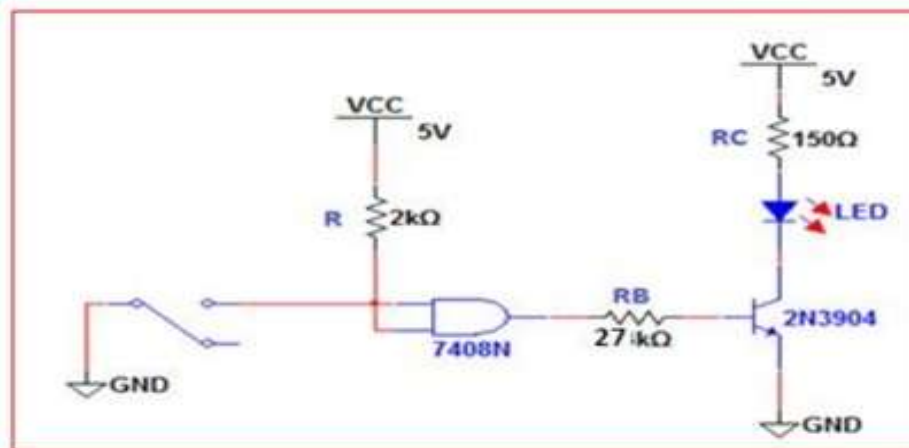
En el circuito de la figura, hallar la R_B que se debe colocar en la base del transistor.

Solución

Según la tabla anterior para un CI estándar la resistencia de entrada es de $4k\Omega$, pero como son dos entradas se coloca una de $2k\Omega$.

Para el diodo: $V_D=2V$, $I_D=20mA$

para el transistor: $V_{CEsat} = 0.2V$, $\beta \approx 200$, $V_{BEsat} = 0.7V$



$$V_D = 2V, I_D = 20mA, V_{CESAT} = 0.2V, \beta \approx 200, V_{BESAT} = 0.7V$$

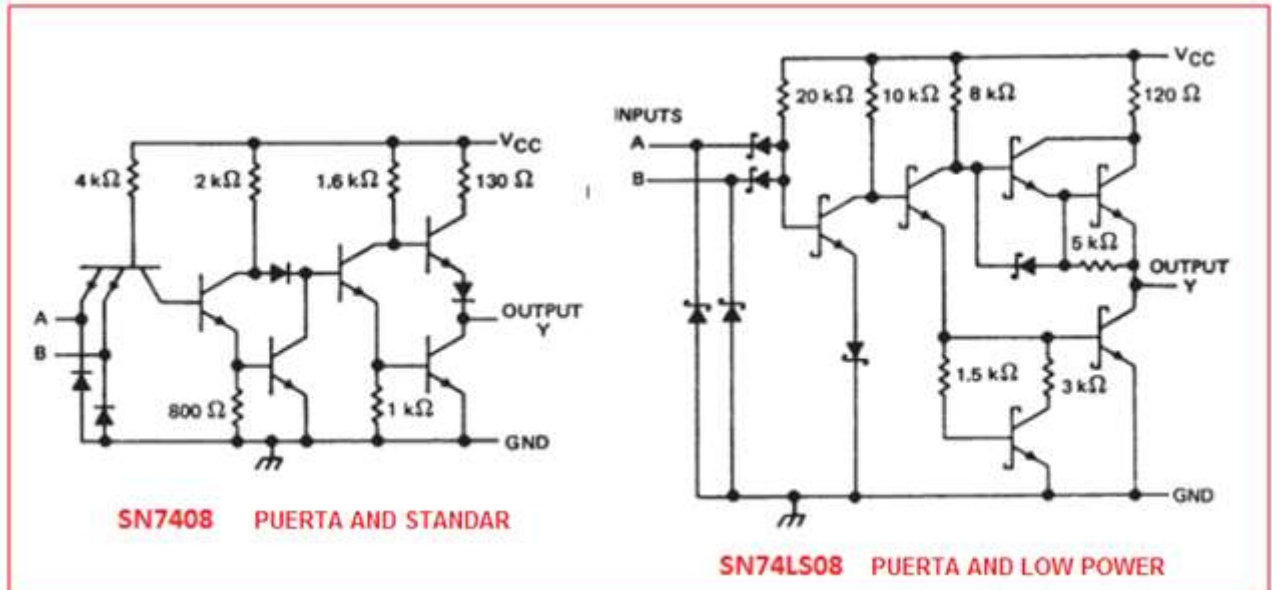
$$R_C \approx \frac{5V - 2V}{20mA} = 0.15K = 150\Omega \quad \frac{I_C}{\beta} = \frac{20mA}{200} = 0.1mA$$

Para que haya saturación del transistor es necesario que:

$$I_B > \frac{I_C}{\beta}, \text{ entonces, } R_B < \frac{5 - 0.7}{0.1} = 30K, \text{ se escoge } 27K$$

Respuesta: $R_B=27k\Omega$

DIAGRAMA DE LAS PUERTAS LÓGICAS



4. ALGEBRA DE BOOLE

[George Boole](#) británico nació en 1815 y murió en 1864. Como inventor del [álgebra de Boole](#), que marca los fundamentos de la aritmética computacional moderna, Boole es considerado como uno de los fundadores del campo de las Ciencias de la computación. Se podría decir que es el padre de las operaciones lógicas y gracias a su álgebra hoy en día es posible manipular operaciones lógicas. Su teoría se base en postulados y teoremas lógicos.

En la lógica proposicional, las leyes de De Morgan (Augustus De Morgan, británico, 1806-1871) son un par de reglas de transformación que permiten la expresión de las conjunciones y disyunciones en términos de negación.

Las reglas se pueden expresar en español como:

1. La negación de la conjunción es la disyunción de las negaciones.
2. La negación de la disyunción es la conjunción de las negaciones.

En los siguientes cuadros se dan los Postulados y Teoremas básicos del Algebra de Boole. El apóstrofe significa entrada negada.

POSTULADOS

$A+0=A$, $A.1=A$,
 $0.A=0$, $1.A=A$
 $A.A=A$, $A.A'=0$,
 $(A')'=A$, $1+A=1$
 $0+A=A$, $A+A=A$,
 $A+A'=1$

TEOREMAS

$A+B=B+A$, conmutativas de la suma
 $A.B=B.A$, conmutativa de multiplicación
 $A+A.B=A.(1+B)=A.1=A$
 $A+A'.B=A+B$
 $A.B+A.B'=A.(B+B')=A.1=A$

LEYES DE MORGAN

$(A.B.C)'=A'+B'+C'$ $(A+B+C)'=A'.B'.C'$

EJEMPLO

Simplificar la siguiente expresión:

$$S=(A+AB).(B'+AB).[C'+(A.(A'+B'))+(B.(A'+B'))]+C.[C'+(A.(A'+B'))+(B.(A'+B'))]$$

Solución

$$S=(A.B'+A.AB+AB.B'+AB.AB).[C'+(AA'+A.B'+B.A'+BB')]+C.[C'+(AA'+A.B'+BA'+BB')]$$

$$S=(A.B'+A.B+AB).[C'+(A.B'+B.A')]+C.[C'+(A.B'+B.A')]$$

$$S=(A.B'+A.B).[C'+(A.B'+B.A')]+C.[C'+(A.B'+B.A')]$$

$$S=(A.B'+A.B)C'+(AB'+AB).(AB'+BA')+C.C'+C'.(AB'+BA')$$

$$S=(A.B'+AB)C'+C(A.B'+A'.B)$$

$$S=AB'C'+ABC'+AB'C+A'BC$$

TABLAS DE VERDAD

Las Tablas de verdad es un recurso lógico para plasmar las ecuaciones lógicas en la tabla, siguiendo la metodología que una variable negada en la tabla es un 0 y una no negada es un 1. Por ejemplo,

Es la forma de dar una salida verdadera del circuito lógico según la función lógica o booleana que represente al circuito. Por ejemplo para el ejercicio anterior donde,

$$S = AB'C' + ABC' + AB'C + A'BC$$

$S=1$ para las entradas lógicas dadas en la tabla de verdad con color rojo.



ENTRADAS			SALIDA	
A	B	C	S	
0	0	0	0	
0	0	1	0	
0	1	0	0	
0	1	1	1	$A'BC$
1	0	0	1	$AB'C'$
1	0	1	1	$AB'C$
1	1	0	1	ABC'
1	1	1	0	

5. CIRCUITOS LÓGICOS

A partir de una expresión Booleana o ecuación lógica se puede implementar los circuitos con las puertas lógicas estudiadas. Por ejemplo,

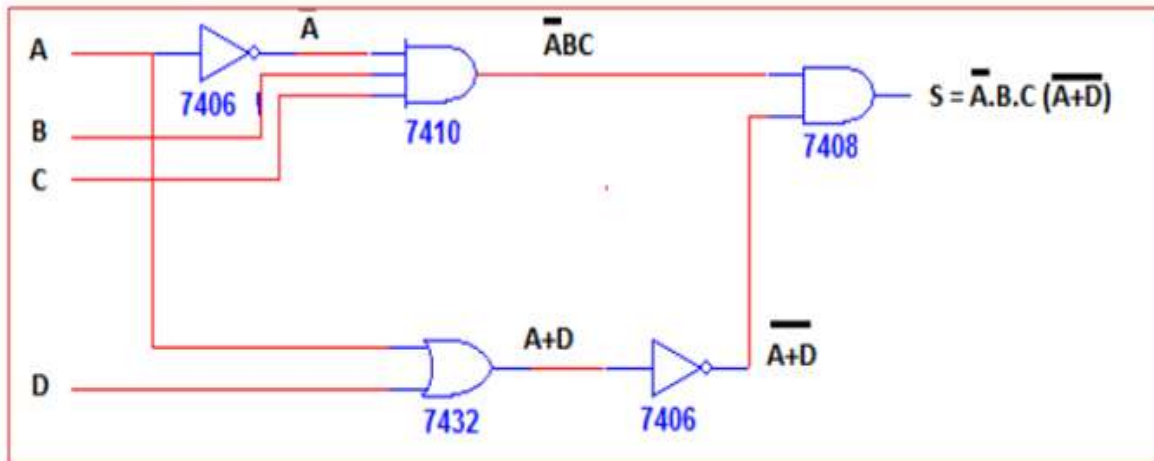
Implementar la ecuación Booleana: $S = A'BC(A+D)'$

$A'BC$ se puede implementar con una puerta AND de 3 entradas A' , B y C

A' requiere una NOT o inversor

$(A+D)'$ requiere una OR con entradas A, D y luego un inversor o puerta NOT

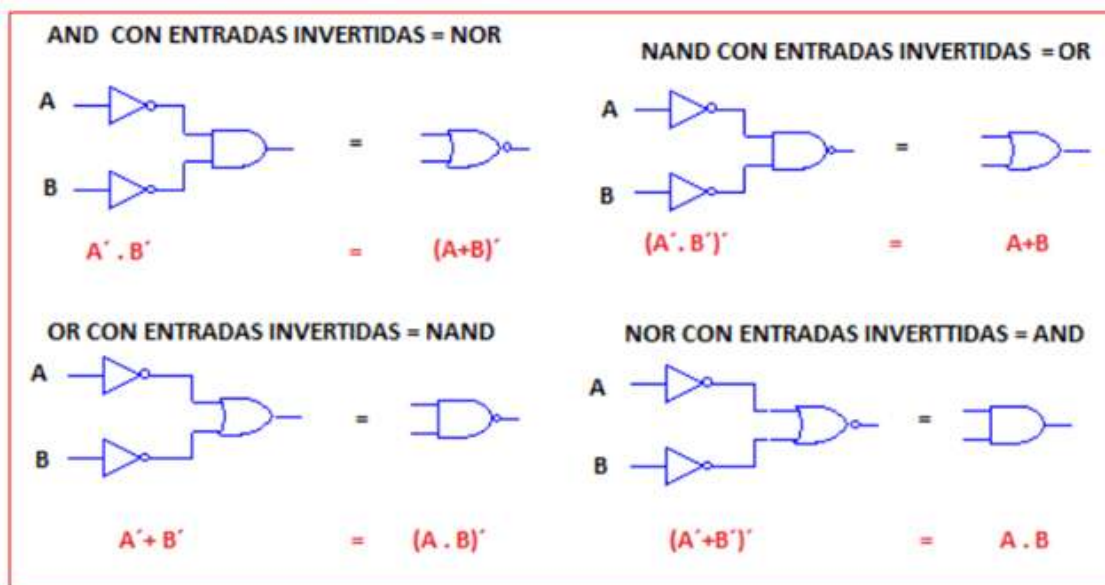
Estas dos salidas son las entradas de una AND con entradas $A'BC$ y $(A+D)'$



CONVERSIÓN DE PUERTAS LÓGICAS

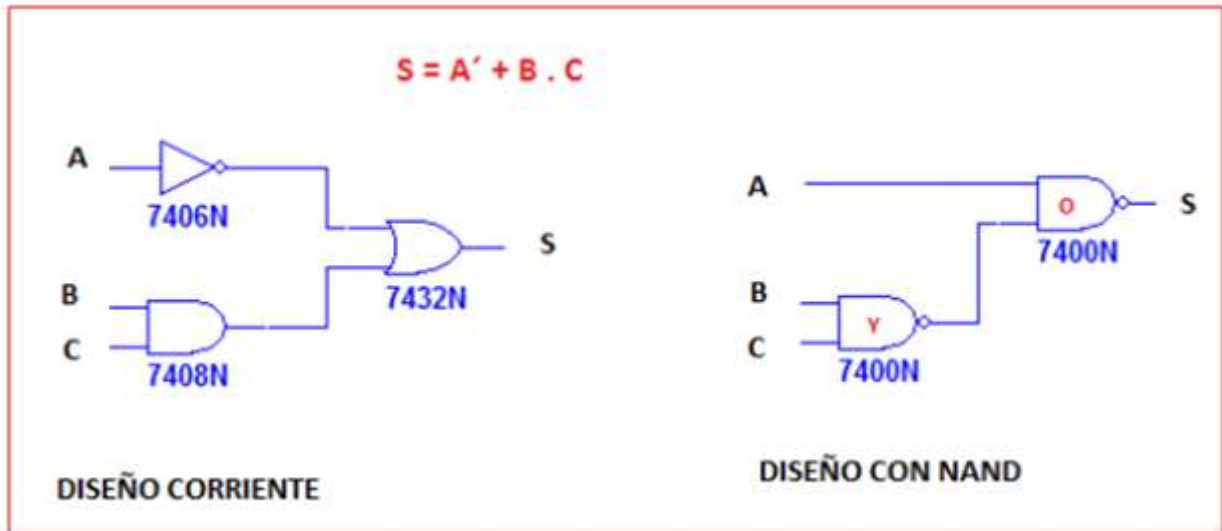
Para que el diseño de un circuito lógico sea más eficiente (utilizar menos circuitos integrados) se requiere con frecuencia convertir una puerta lógica en otra. Aquí se presentan algunas de ellas:

- Una NOR es una AND con entradas invertidas
- Una OR es una NAND con entradas invertidas
- Una NAND es una OR con entradas invertidas
- Una AND es una NOR con entradas invertidas



DISEÑO CON PUERTAS NAND

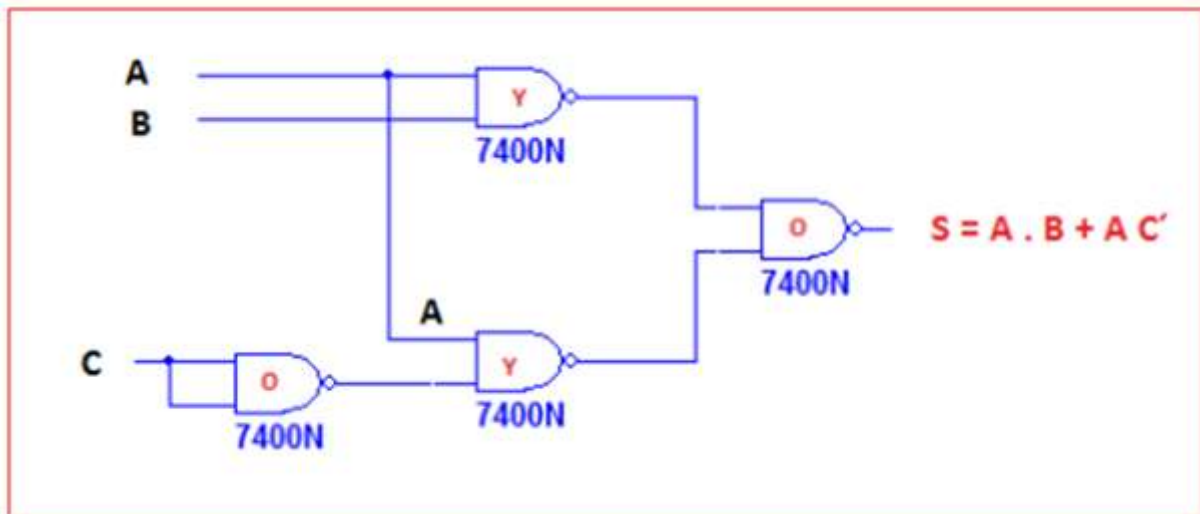
Es muy frecuente diseñar circuitos lógicos utilizando solamente puertas NAND. Por ejemplo, implementar la ecuación lógica $S=A'+B.C$ con puertas NAND. Observe que en el diseño corriente se necesitan tres CI, mientras que en el segundo diseño se necesita solamente un CI.



EJEMPLO

Implementar con puertas NAND la ecuación booleana: $S=A.B+A.C'$

De salida hacia la entrada el primer nivel de puertas es OR, el segundo nivel es NAND, el tercer nivel es nuevamente OR, etc. Observe para el último nivel de OR se debe invertir las entradas.



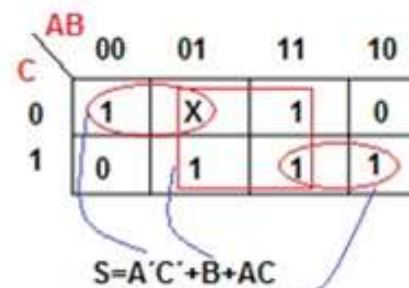
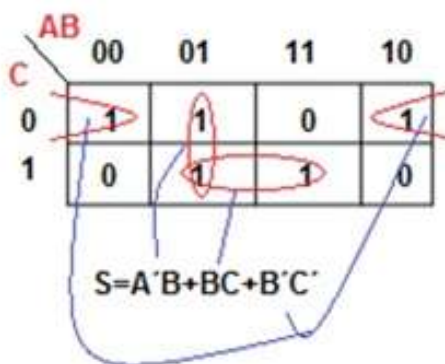
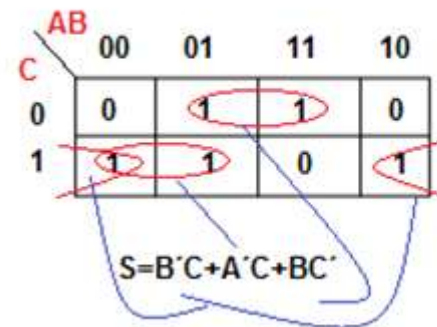
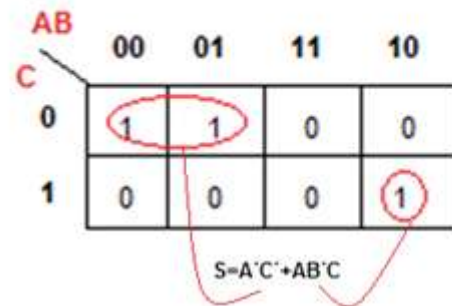
MAPAS DE KARNAUGH

Son mapas que se utilizan para simplificar circuitos, de una forma más sencilla que si se utiliza directamente el álgebra de Boole. Cada término de la función lógica es colocada en la casilla correspondiente: 0 corresponde a variable negada y 1 a variable no negada. $A'BC' = 010$

Las reglas de simplificación son las siguientes:

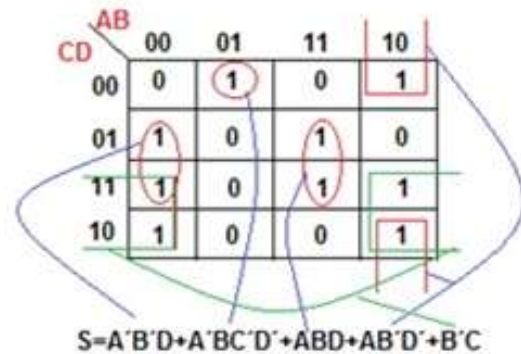
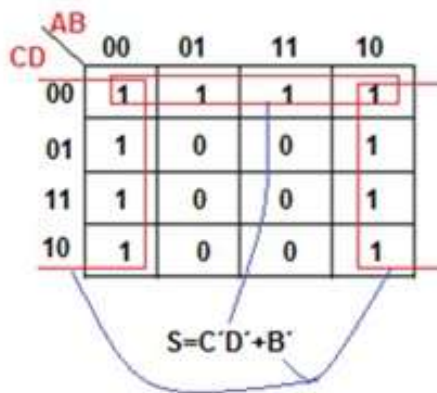
- Enlaces de dos elimina una variable
- Enlaces de cuatro elimina dos variables
- Enlaces de ocho elimina tres variables, etc...

MAPAS DE TRES VARIABLES



X: Don't care: indiferente

MAPAS DE CUATRO VARIABLES



EJEMPLO DE APLICACIÓN

Diseñar un circuito lógico que controle la puerta de un ascensor en un edificio de tres pisos. El circuito tiene cuatro entradas y una salida. Las entradas P1, P2, P3 indican el piso en que se está (P=1) y M el movimiento del ascensor (M=1 cuando se mueve). La salida S indica cuando la puerta se abre (S=1).

M=0 ascensor detenido
M=1 ascensor en movimiento
S=0 la puerta está cerrada
S=1 la puerta se abre

Son tres pasos:

1. Tabla de verdad
2. Mapa de Karnaugh
3. Circuito lógico

M	P1	P2	P3	S
0	0	0	0	0
0	0	0	1	1
0	0	1	0	1
0	0	1	1	X
0	1	0	0	1
0	1	0	1	X
0	1	1	0	X
0	1	1	1	X
1	0	0	0	0
1	0	0	1	0
1	0	1	0	0
1	0	1	1	X
1	1	0	0	0
1	1	0	1	X
1	1	1	0	X
1	1	1	1	X

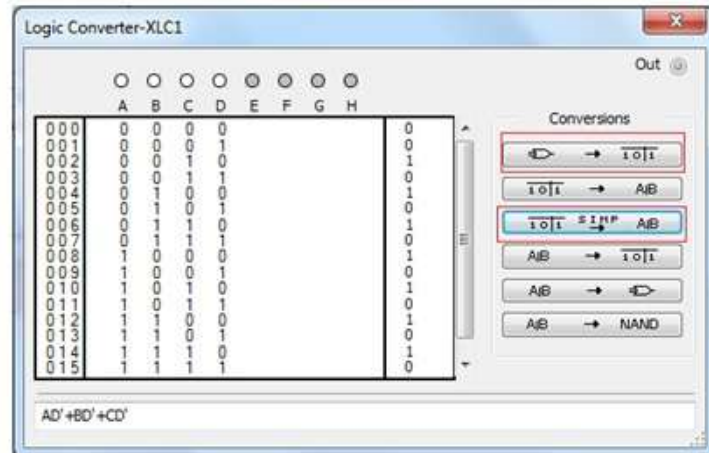
TABLA DE VERDAD

MAPA DE KARNAUGH

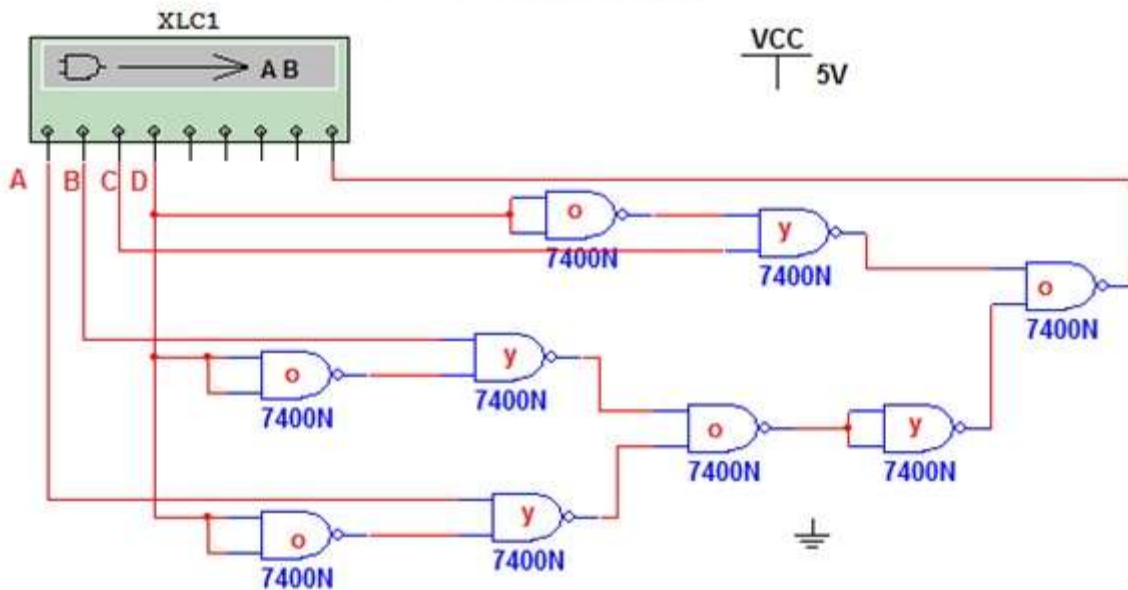
		P2P3			
		00	01	11	10
MP1	00	0	1	x	1
	01	1	x	x	x
	11	0	x	x	x
	10	0	0	x	0

$$S = M'P1 + M'P3 + M'P2 = M'(P1 + P2 + P3)$$

SIMULACIÓN CON MULTISIM



CIRCUITO LÓGICO



A=P1, B=P2, C=P3, D=M

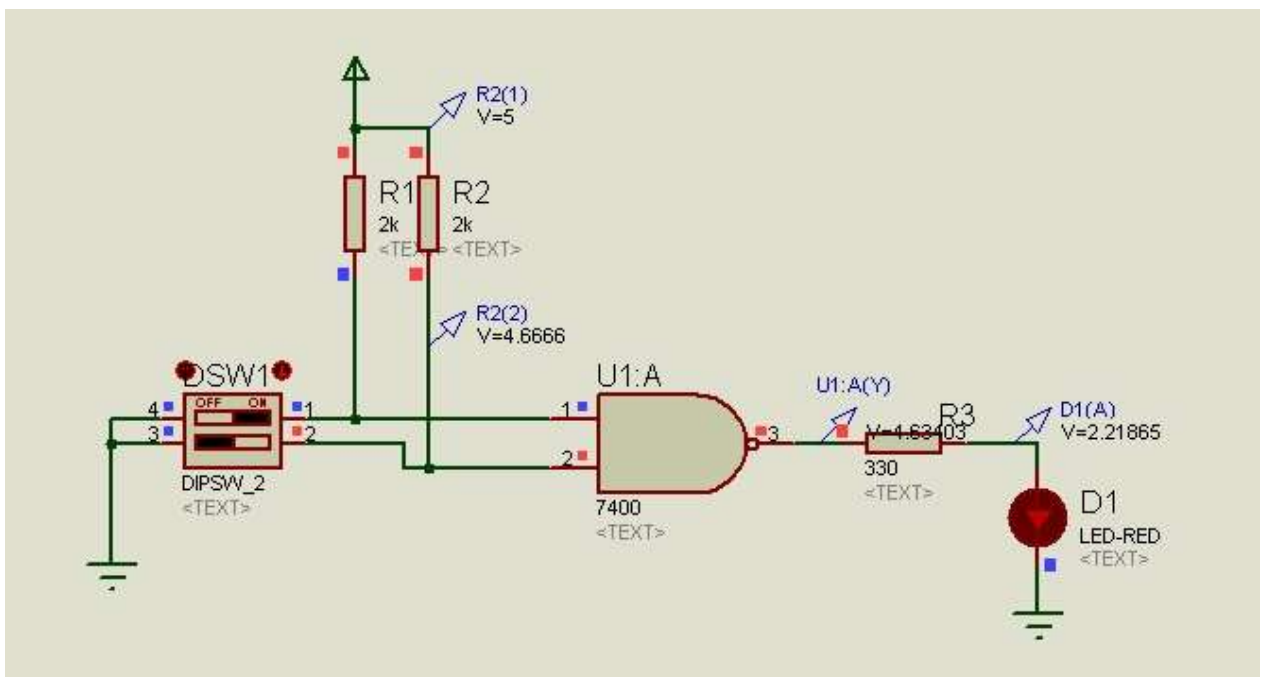
CURSO: ELECTRÓNICA DIGITAL

UNIDAD 1: COMPUERTAS LÓGICAS - SIMULACIÓN

Vamos a simular con Proteus los siguientes circuitos digitales utilizando las compuertas lógicas básicas.

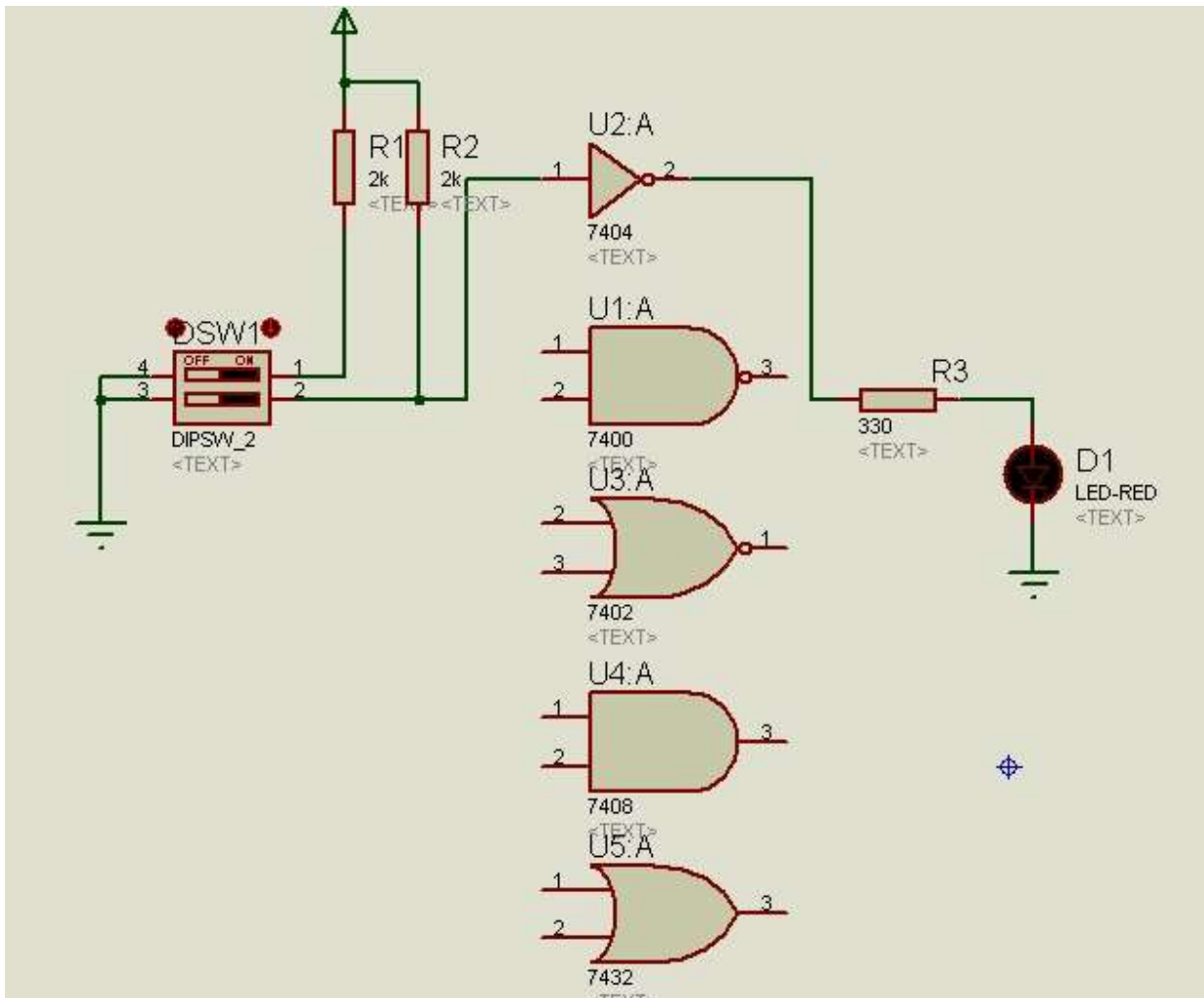
1. CARACTERÍSTICAS ELÉCTRICAS

Realice el circuito de la figura y mida los niveles eléctricos de entrada y salida de la compuerta 7400 (puerta NAND): I_{iL} , I_{iH} , V_{iL} , V_{iH} , I_{oL} , I_{oH} , V_{oL} , V_{oH} . Compruebe que los valores de R1, R2 y R3 son los correctos.



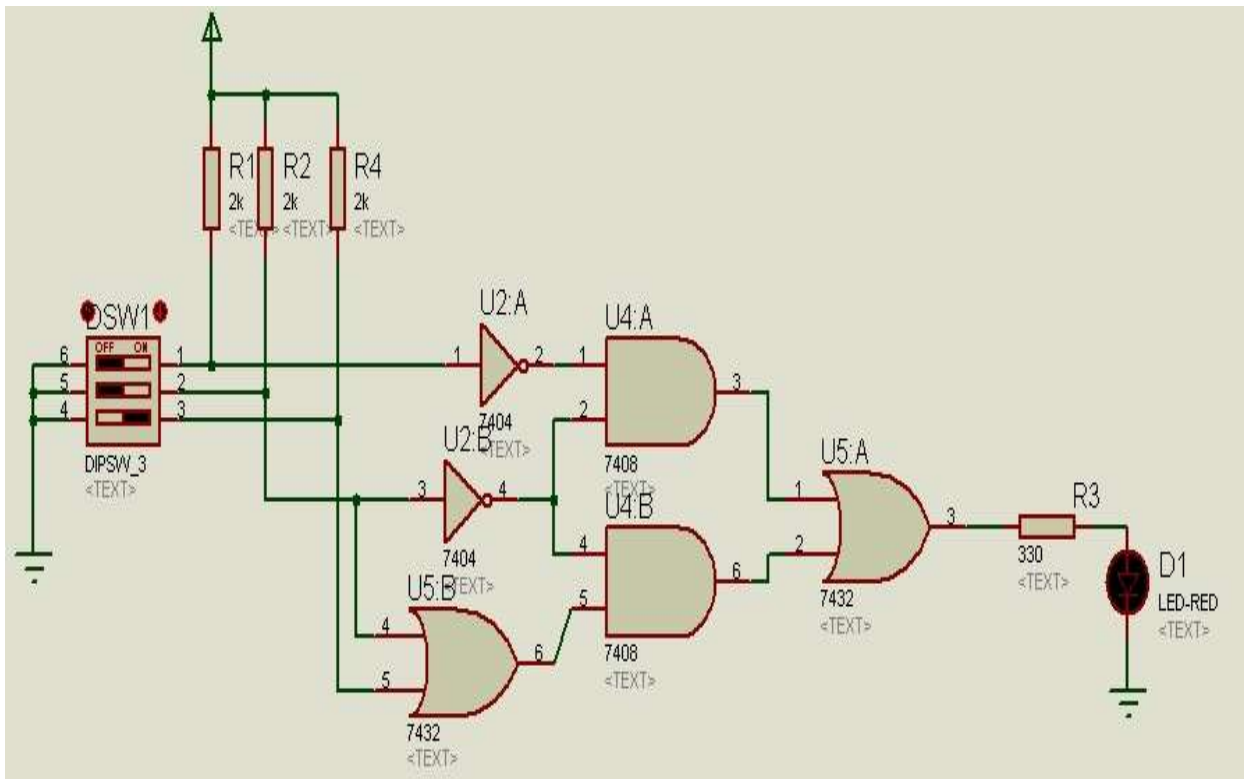
2. ECUACIONES LÓGICAS DE LAS COMPUERTAS

Con el circuito siguiente comprobar la Tabla de Verdad de las compuertas, NOT, NAND, NOR, AND y OR. Escriba su ecuación lógica.



3. CIRCUITO LÓGICO CON COMPUERTAS

Para el circuito de la figura, encuentre la Tabla de Verdad del circuito, con el Mapa de Karnaugh encuentre la ecuación o expresión lógica simplificada.



4. CIRCUITO LÓGICO CON COMPUERTAS NAND

Repita el paso anterior diseñando el circuito con compuertas NAND solamente.

CURSO: ELECTRÓNICA DIGITAL

UNIDAD 1: COMPUERTAS LÓGICAS - LABORATORIO

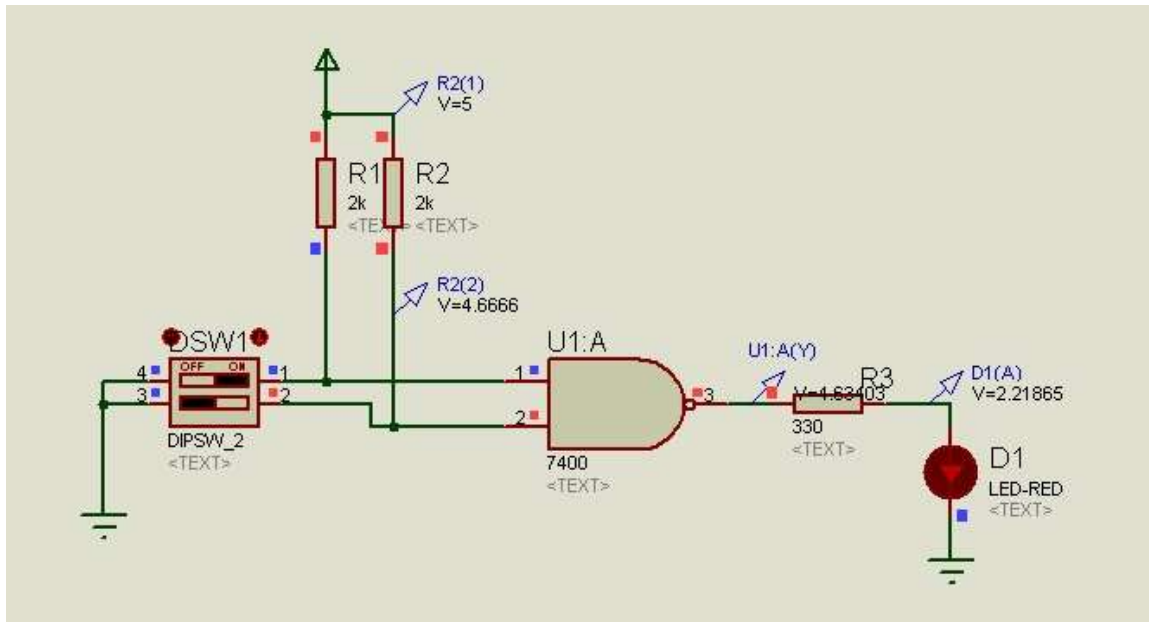
El objetivo de la siguiente práctica es adquirir habilidades para que sean competentes en la realización de circuitos digitales usando las compuertas básicas AND, NAND, OR, NOR y NOT, comprobando sus características eléctricas, Tablas de Verdad, Mapa de Karnaugh y su ecuación lógica.

EQUIPO Y MATERIAL NECESARIO

- Fuente de 5V
- Multímetro
- Protoboard
- Circuitos integrados: 7400, 7402, 7404, 7408, 7432
- DIPSWICH de 4 posiciones
- Un LED
- Resistencias a 1/4W de: 3x 2K Ω , 330 Ω
- Conectores

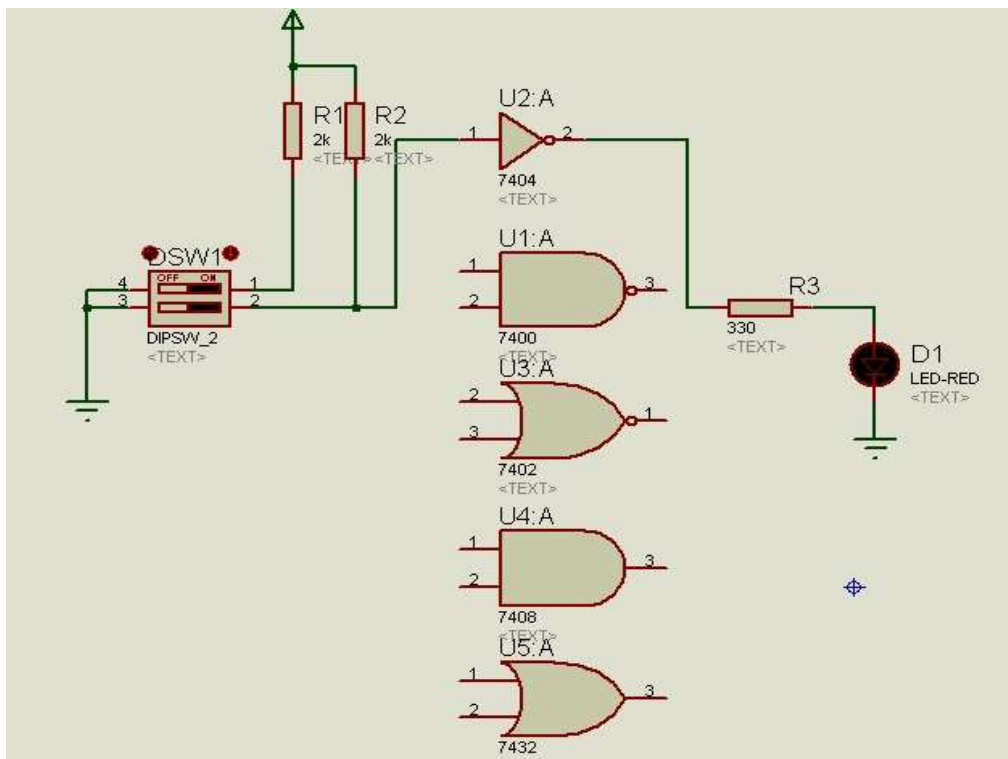
1. CARACTERÍSTICAS ELÉCTRICAS

Implemente el circuito de la figura y mida los niveles eléctricos de entrada y salida de la compuerta 7400 (puerta NAND): I_{iL} , I_{iH} , V_{iL} , V_{iH} , I_{oL} , I_{oH} , V_{oL} , V_{oH} . Compruebe que los valores de R1, R2 y R3 son los correctos.



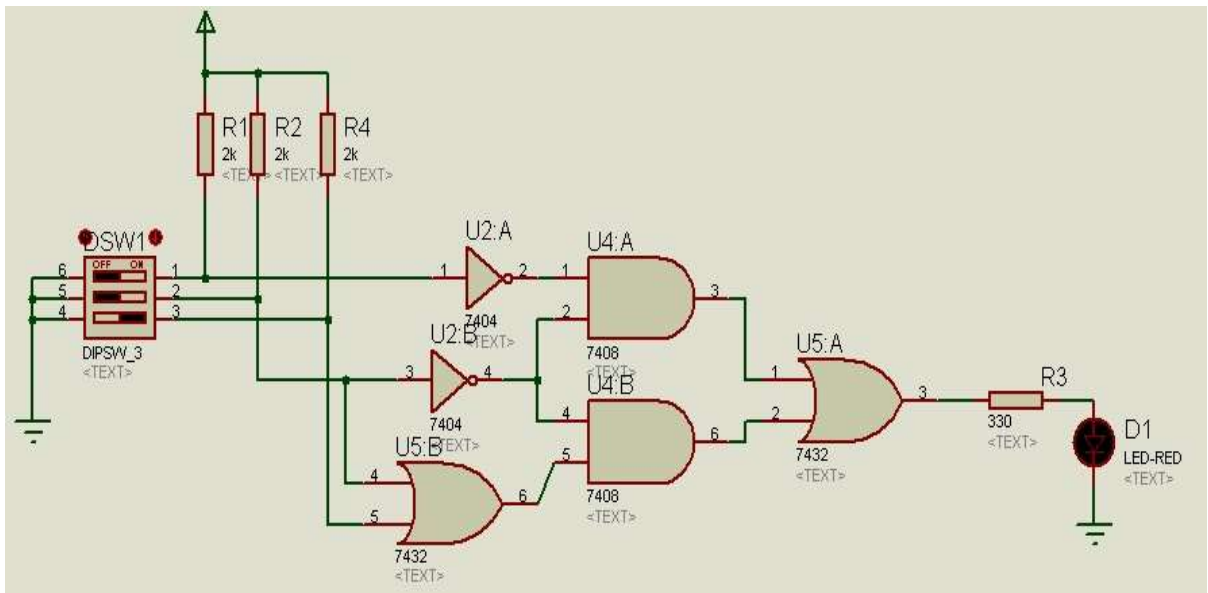
2. ECUACIONES LÓGICAS DE LAS COMPUERTAS

Con el circuito siguiente comprobar la Tabla de Verdad de las compuertas, NOT, NAND, NOR, AND y OR. Escriba su ecuación lógica.



3. CIRCUITO LÓGICO CON COMPUERTAS

Para el circuito de la figura, encuentre la Tabla de Verdad del circuito, con el Mapa de Karnaugh encuentre la ecuación o expresión lógica simplificada.



4. CIRCUITO LÓGICO CON COMPUERTAS NAND

Repita el paso anterior diseñando el circuito con compuertas NAND solamente.